



CZ

Odszukaj na mapie wypisane elementy i wpisz ich pozycję opisaną w poziomie cyfrą a w pionie literą.



czołno -

beczka -

tęcza -

miecz -

klucz -

tarcza -

kaczka -

taczka -

pajęczyna -

czara -

czajnik -

haczyk -

czapla -

czołg





Odszukaj na mapie elementy oznaczone w poziomie cyfrą, a w pionie literą i wpisz ich nazwy.



	A	B	C	D	E	F	G	H	I	J
1										
2										
3										
4										
5										
6										
7										

E7 -

A1,B1-

I4 -

I1 -

F4-

D1-

C3 -

B4 -

H5 -


G1-

C2 -


D4 -

I6 -

C7-



Odszukaj na mapie wskazane elementy i wpisz ich pozycję opisaną w poziomie cyfrą, a w pionie literą.



	A	B	C	D	E	F	G	H	I	J
1										
2										
3										
4										
5										
6										
7										

.....

.....

.....

.....

.....

.....

.....

