


# Močová sústava

pracovný list

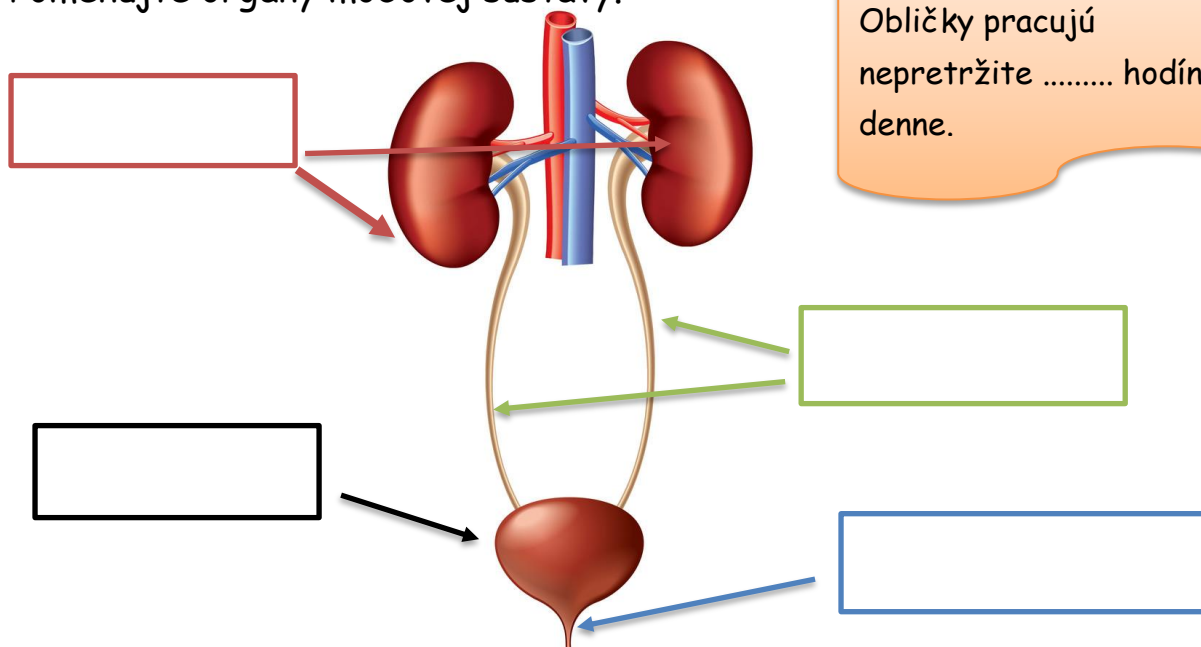
Zabezpečuje hospodárenie s ..... a ..... tekutých odpadových látok z tela.



Vypočítaj príklad a dozvieš sa, koľko litrov krvi za deň prefiltrujú tvoje obličky.

$$(25 \cdot 2) + (150 : 3) + (5 \cdot 20) = \dots\dots \text{ l}$$

Pomenujte orgány močovej sústavy.

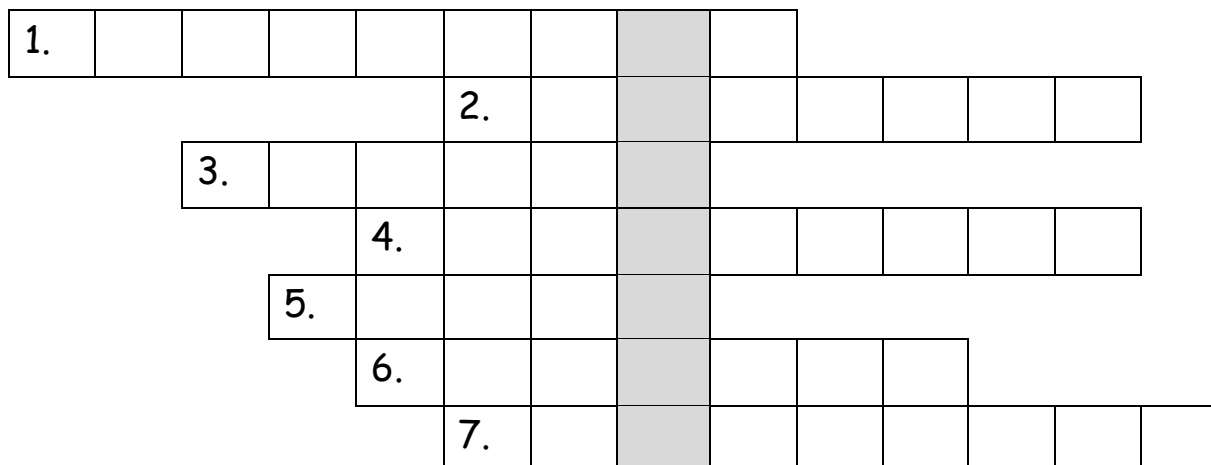


Obličky pracujú nepretržite ..... hodín denne.

Zakrúžkujte 5., 10., 15., 21., 25., 30., 35. a 38. písmeno v poradí a dozviete sa latinský názov ochorenia **cukrovka**.

M J K L D O G V A I L P O J A H J I E D B L P O E N J Q A T K M L P E D C S

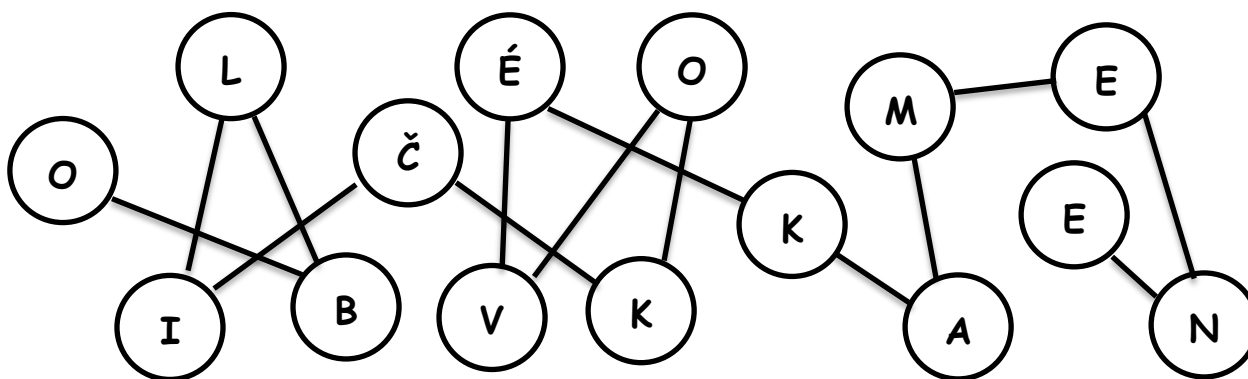
Tmavooranžová farba moču signalizuje málo .....



1. Rúrky, ktorými steká moč z obličiek do močového mechúra.
2. Prvotný moč.
3. Do obličky vstupuje obličková .....
4. V kôre obličiek sa nachádzajú obličkové .....
5. Močový mechúr je ..... svalový orgán, v ktorom sa hromadí moč.
6. Obličky majú tvar .....
7. V dreni obličiek sa nachádzajú obličkové .....

Ak cez obličky nepretečie potrebné množstvo vody, vytárajú sa v nich

.....



Zdroje obrázkov:

<https://cdn2.vectorstock.com/i/1000x1000/68/06/urinary-system-isolated-vector-3786806.jpg>

<https://cdn4.vectorstock.com/i/1000x1000/89/58/kidney-funny-cartoon-vector-25058958.jpg>