

|                   |                               |
|-------------------|-------------------------------|
| Škola:            | Základná škola Zámotov č. 531 |
| Školský rok:      | 2019/2020                     |
| Trieda:           | III.C                         |
| Triedna učiteľka: | Mgr. Ľubica Zajacová          |

**Milí tretiaci,**  
**zatiaľ sa ešte stále spoločne učíme na diaľku v domácom prostredí, preto som pre Vás opäť pripravila nové úlohy z jednotlivých predmetov, ktoré si postupne vypracujete.**

*Teším sa na stretnutie s Vami. Do skorého videnia.*

*Vaša triedna učiteľka Mgr. Ľubica Zajacová*

**Poznámka:** V prípade akýchkoľvek vzniknutých otázok ma naďalej kontaktujte telefonicky alebo cez Messenger.

**Dôležité informácie získate tiež na:** <https://www.ucimenadialku.sk/>

| TÝŽDENNÝ ROZVRH HODÍN |                               |                      |
|-----------------------|-------------------------------|----------------------|
| 11. TÝŽDEŇ            | od 25.05.2020 – do 29.05.2020 |                      |
|                       | 1. vyučovacia hodina          | 2. vyučovacia hodina |
| PONDELOK              | SJL                           | MAT                  |
| UTOROK                | ANJ                           | -                    |
| STREDA                | VLA/MAT                       | SJL                  |
| ŠTVRTOK               | SJL                           | PDA/MAT              |
| PIATOK                | SJL/MAT                       | -                    |

## 📖 - ZADANIE ÚLOH PODĽA PREDMETOV - 📖

**Dátum: 25.05.2020 (PONDELOK)**

**Predmet: Slovenský jazyk a literatúra**



Vypracuj postupne jednotlivé úlohy podľa zadania.

**Už vieme:**

📖 **Číslovky** sú slová, ktoré vyjadrujú:

- **počet** osôb, zvierat a vecí (Koľko? Dve, päť, sto,...),
- **poradie** osôb, zvierat a vecí (Koľký v poradí? Druhý, piata, tretie,...),

Číslovky označujúce poradie môžeme zapísať slovom alebo číslicou, za ktorou píšeme bodku.

Umiestnil sa na **treťom** mieste.

Umiestnil sa na **3.** mieste.

1) Ku každej číslovke označujúcej počet zapíš číslovku označujúcu poradie.

Vzor: 4 - štvrtý

1 - .....

10 - .....

5 - .....

19 - .....

8 - .....

20 - .....

9 - .....



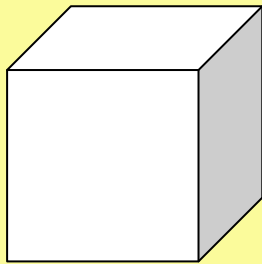
15 - .....

2) Napíš číslicami:

|                        |  |
|------------------------|--|
| dátum svojho narodenia |  |
| dátum svojich menín    |  |
| dnešný dátum           |  |

3) Otvor si Čítanku pre tretí ročník základnej školy na strane 112 – 113. Potichu si prečítaj rozprávku autorky Jaroslavy Blažkovej Mačky vo vreci. Príbeh prečítaj nahlas svojim blízkym. Poteší ma, ak úryvok prečítaš aj mne.  
Pokús sa odpovedať na otázky za textom.

4) Napíš do štvorca, koľko mačiek mal Ivan vo vreci.



**Dátum: 25.05.2020 (PONDELOK)**

**Predmet: Matematika**

Geometria - Zväčšovanie a zmenšovanie rovinných útvarov vo štvorcovej sieti

1) Vypracujte pracovný list – Podobné obrazy.



**Dátum: 26.05.2020 (UTOROK)**

**Predmet: Anglický jazyk**

(Jednotlivé úlohy na doma z ANJ vypracuj podľa zadania vyučujúceho ANJ – Mgr. T. Exenberger.)



**Dátum: 27.05.2020 (STREDA)**

**Predmet: Vlastiveda**

1) Pozri si sériu zaujímavých historických fotografií, ktoré zobrazujú obec Zámutov v minulosti.



- 2) Porovnaj historické fotografie so súčasnosťou.
- 3) Napíš názov historickej pamiatky v obci Zámotov.

.....

- 4) Zaspievaj si spolu s rodičmi alebo súrodencami pieseň z obce Zámotov.

**Dátum: 27.05.2020 (STREDA)**

**Predmet: Matematika**


- 1) Vypočítaj pomocou odčítania.


|              |   |
|--------------|---|
| $20 : 4 = 5$ | $20 - 4 = 16 - 4 = 12 - 4 = 8 - 4 = 4 - 4 = 0$<br>Postupne odčítam 4, až dostanem 0.<br>4 som odčítal 5-krát. |
| $35 : 7 =$   |   |
| $36 : 9 =$   |   |
| $25 : 5 =$   |   |
| $12 : 6 =$   |   |
| $20 : 20 =$  |   |

**Dátum: 27.05.2020 (STREDA)**

**Predmet: Slovenský jazyk a literatúra**

- 1) Otvor si Čítanku pre tretí ročník základnej školy na strane 114 (I. časť). Prečítaj si najprv potichu, potom nahlas ľudovú rozprávku Otcovská rada v podaní Márie Ďuríčkovej.
- 2) Zakrúžkuj, ktorý kniežací príkaz syn porušil.

 Starých ľudí, ktorí sa už nevládali v robote obracať, zaviedli do hory a vydali napospas zverom.

 Starých ľudí si všetci vážili.

- 3) Napíš číslovky číslicami. Dávaj pozor, kde treba napísať bodku.

|                  |    |
|------------------|----|
| sedem mačiatok   | 7  |
| šieste kuriatko  | 6. |
| dve húsky        |    |
| druhé šteniatko  |    |
| tretie kozliatko |    |
| jeden pes        |    |
| päť sliepok      |    |

**Dátum: 28.05.2020 (ŠTVRTOK)**

**Predmet: Slovenský jazyk a literatúra**

1) Zorad' podľa veľkosti a zapíš slovom.

3    19    25    6    16    30    5    9

|   |     |
|---|-----|
| 3 | tri |
| 6 |     |
|   |     |
|   |     |
|   |     |
|   |     |
|   |     |

2) Prepíš slovné spojenia. Číslovky napíš číslicami.

|                      |    |
|----------------------|----|
| pätnáste stretnutie  | 15 |
| dvadsaťpäť eur       |    |
| jedenásti futbalisti |    |
| desiaty v poradí     |    |
| prvý jún             |    |

3) Otvor si Čítanku pre tretí ročník základnej školy na strane 115 (II. časť). Prečítaj si ľudovú rozprávku Otcovská rada v podaní Márie Ďuričkovej.

4) Porozmýšľaj, akou dobrou radou ti pomohli tvoji starí rodičia alebo rodičia. Odpoveď napíš.

.....

.....

.....

**Dátum: 28.05.2020 (ŠTVRTOK)**

**Predmet: Prírodoveda**

📖 **Životný cyklus rastliny** sa začína vyklíčením rastliny zo semena, pokračuje jej rastom, kvitnutím, opelením, tvorením semien, starnutím a následným odumretím rastliny.

Podľa dĺžky života delíme rastliny na:

- dlhšie - **trváce rastliny** (stromy – napr. pagaštan konský, kry, byliny,...),
- kratšie – **jednoročné rastliny** (napr. fazuľa,...), dvojročné rastliny (napr. mrkva, zeler,...).

1) Urob si doma pokus.

Úloha č. 1

Do kvetináča s pôdou zasad' semeno fazule a pozoruj jeho rast. Zistenia si zapisuj alebo aj zakresľuj. Popros rodičov, aby tvoje zistenia z pokusu odfoťili a zaslali na môj mail.

**Dátum: 28.05.2020 (ŠTVRTOK)**

**Predmet: Matematika**

- 1) Vypočítaj a zelenou vyfarbi obdĺžnik so správnym výsledkom.

|              |              |              |              |               |
|--------------|--------------|--------------|--------------|---------------|
| $21 : 7 = 3$ | $15 : 5 = 4$ | $12 : 2 = 6$ | $24 : 3 = 7$ | $30 : 30 = 1$ |
| $20 : 1 = 1$ | $56 : 8 = 7$ | $16 : 4 = 4$ | $36 : 6 = 6$ | $9 : 3 = 4$   |

-📖-

**Dátum: 29.05.2020 (PIATOK)**

**Predmet: Slovenský jazyk a literatúra**

- 1) Otvor si Čítanku pre tretí ročník základnej školy na strane 116 (III. časť). Prečítaj si ľudovú rozprávku Otcovská rada v podaní Márie Ďuričkovej.
- 2) Napíš, prečo sa ľudová rozprávka nazýva Otcovská rada.

.....

.....

.....

- 3) Prelistuj svoje učebnice a zisti, ako sú v nich zapísané číslovky. Zistenia napíš do tabuľky.

| PREDMETY        | ČÍSLICE | SLOVÁ |
|-----------------|---------|-------|
| slovenský jazyk | áno     | áno   |
| matematika      |         |       |
| vlastiveda      |         |       |
| prírodoveda     |         |       |
| hudobná výchova |         |       |

**Dátum: 29.05.2020 (PIATOK)**

**Predmet: Matematika**

- 1) Vyfarbi červenou farbou násobky čísla 3 a zelenou farbou násobky čísla 2.

|    |   |    |   |    |    |    |
|----|---|----|---|----|----|----|
| 18 | 9 | 12 | 7 | 10 | 24 | 30 |
|----|---|----|---|----|----|----|



1. JÚN 2020  
ZAČÍNAME DOBROV. VYUČOVANIE.

NEZABUĐNI NOSIŤ RÚŠKO

