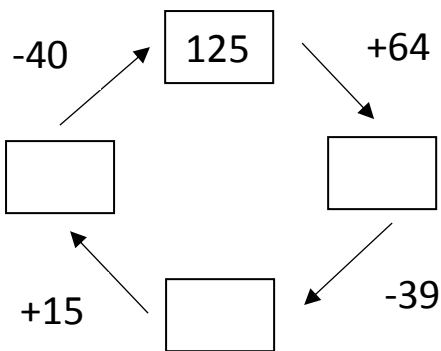
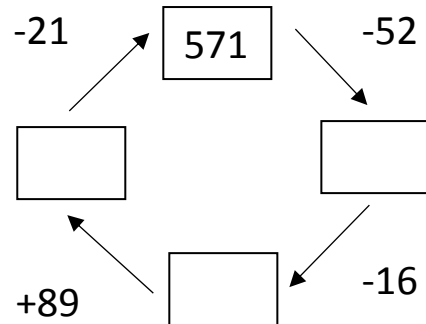


1. Vypočítaj a doplň čísla v smere šípok



Meno: \_\_\_\_\_




2. Usporiadaj čísla od najväčšieho po najmenšie


- 105    150    510    251    115    225    125

3. Vypočítaj príklady

- $236 + 44 =$   
 $436 + 299 =$   
 $563 + 128 =$   
 $454 + 91 =$   
 $403 + 377 =$



- $726 - 144 =$   
 $436 - 99 =$   
 $230 - 19 =$   
 $567 - 89 =$   
 $821 - 249 =$



3. Vypočítaj príklady a vymaluj korytnačky podľa zadania

- 428 – zelená  
487 – modrá  
482 – hnedá  
478 – fialová

