


Pracovný list č.13

Meno: _____

1. Noty

Napiš celé noty.



g¹ d² f¹ c² a¹ e²

Zakrúžkuj noty, ktoré sú správne.



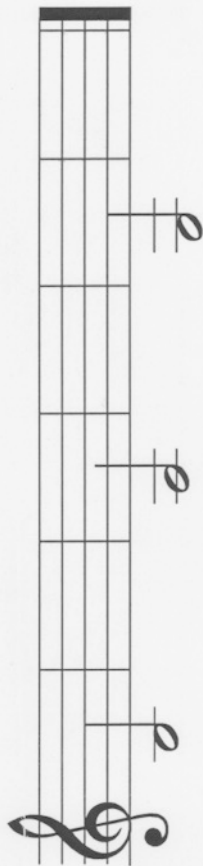
d² g¹ c¹ f² d¹ f¹ a¹

polová celá celá štvrťová celá celá polová



2. Noty


Opiš noty: malé h, malé a, malé g.



malé h malé h malé a malé a malé g malé g

3. Stupnica C dur

Doplň stupnicu C dur. Noty zapisuj ďalej od seba.



4. Doplň takt

Doplň označenie taktu $\frac{2}{4}$ alebo $\frac{3}{4}$ a cvičenie vyfleskaj.

